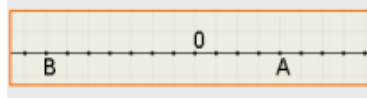


TU NOMBRE _____

CICLO 4 _____

1. Escribe el número entero que corresponde a cada situación:

- a) El ascensor subió a la planta 7 b) El submarino estaba a 57 m de profundidad c) Nació el año 38 antes de Cristo d) Juan tiene 19 €



2. ¿Cuál es el valor de A y de B?

- 3. Calcula:** a) $|-14| =$ _____ b) $|9| =$ _____ c) $(-19) =$ _____ d) $(+5) =$ _____

- 4. Señala el menor y el mayor de** -32, -18, -43 y 15 mayor: _____ Menor: _____

5. Calcula $-7 - 3 + 5 =$ _____ 6. Calcula $(-9) + (-4) - (-1) + (+4) =$ _____ 7. Calcula $(-2) \cdot (-7) =$ _____ $(+30) : (-5) =$ _____

8. Calcula a) $(-2)^3 :$ _____ b) $(+3)^4 =$ _____ 9. Calcula $+2 + [-3 + (-5) \cdot (+4)] =$ _____

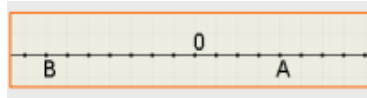
10. Una persona nació en el año 6 antes de Cristo y se casó en el año 18 después de Cristo. ¿A qué edad se casó? _____
-

TU NOMBRE _____

CICLO 4 _____

1. Escribe el número entero que corresponde a cada situación:

- a) El ascensor subió a la planta 7 b) El submarino estaba a 57 m de profundidad c) Nació el año 38 antes de Cristo d) Juan tiene 19 €



2. ¿Cuál es el valor de A y de B?

- 3. Calcula:** a) $|-14| =$ _____ b) $|9| =$ _____ c) $(-19) =$ _____ d) $(+5) =$ _____

- 4. Señala el menor y el mayor de** -32, -18, -43 y 15 mayor: _____ Menor: _____

5. Calcula $-7 - 3 + 5 =$ _____ 6. Calcula $(-9) + (-4) - (-1) + (+4) =$ _____ 7. Calcula $(-2) \cdot (-7) =$ _____ $(+30) : (-5) =$ _____

8. Calcula a) $(-2)^3 :$ _____ b) $(+3)^4 =$ _____ 9. Calcula $+2 + [-3 + (-5) \cdot (+4)] =$ _____

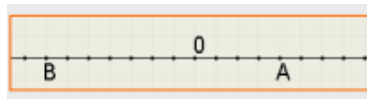
10. Una persona nació en el año 6 antes de Cristo y se casó en el año 18 después de Cristo. ¿A qué edad se casó? _____
-

TU NOMBRE _____

CICLO 4 _____

1. Escribe el número entero que corresponde a cada situación:

- a) El ascensor subió a la planta 7 b) El submarino estaba a 57 m de profundidad c) Nació el año 38 antes de Cristo d) Juan tiene 19 €



2. ¿Cuál es el valor de A y de B?

- 3. Calcula:** a) $|-14| =$ _____ b) $|9| =$ _____ c) $(-19) =$ _____ d) $(+5) =$ _____

- 4. Señala el menor y el mayor de** -32, -18, -43 y 15 mayor: _____ Menor: _____

5. Calcula $-7 - 3 + 5 =$ _____ 6. Calcula $(-9) + (-4) - (-1) + (+4) =$ _____ 7. Calcula $(-2) \cdot (-7) =$ _____ $(+30) : (-5) =$ _____

8. Calcula a) $(-2)^3 :$ _____ b) $(+3)^4 =$ _____ 9. Calcula $+2 + [-3 + (-5) \cdot (+4)] =$ _____

10. Una persona nació en el año 6 antes de Cristo y se casó en el año 18 después de Cristo. ¿A qué edad se casó? _____
-